

Шифр 10-18

Максимальное кол-во баллов – 100  
Время выполнения: 90 минут

### ИСТОРИЯ

10 класс

Тестовый раунд – 75 баллов

(До 7 баллов)

1А. Соотнесите даты между собой. Когда начинался год в указанные столетия?

- |                |             |
|----------------|-------------|
| 1) 1 января;   | а) XIII в.  |
| 2) 1 марта;    | б) XVII в.  |
| 3) 1 апреля;   | в) XVIII в. |
| 4) 1 сентября. |             |

1	2	3	4
<i>в 1</i>		<i>г б</i>	<i>а</i>

1Б. Соотнесите имена и события

- 1) Екатерина I;
- 2) Петр II;
- 3) Петр III;
- 4) Павел I;
- 5) Николай I.
  - а) этот человек первым короновался по императорскому обряду;
  - б) этот человек не успел короноваться, став жертвой дворцового переворота;
  - в) этот правитель короновался дважды - в Москве и в Варшаве;
  - г) этот император впервые короновал вместе с собой свою супругу;

1	2	3	4	5
<i>а 1</i>	<i>г</i>	<i>б 1</i>		<i>в 1</i>

2. О ком идет речь? (3 балла)

Первый из них умер в монашеском сане около 1188 г., второй помогал крестить Русь, третий был сыном священника. Мы обычно ставим их имена рядом. Кто они?

*при догадываю, Илья Муромец, Добрыня Никитич, Илья Телович*

3. Кто является лишним в ряду (лишнее слово подчеркните и кратко объясните свой выбор)? Что объединяет эти ряды? (до 5 баллов)

А) В.И. Беринг, Д.Г. Мессершмидт, Г.Ф. Миллер, П.С. Паллас.

Б) Л.В. Кузнецов, А.И. Дебедь, А.В. Усс, А.Г. Хлопонин.

*А) остальные были были и немцами по происхождению работали в России учёными, Б) остальные были учеными Крайнего Севера*

4. Найдите и исправьте ошибки в тексте (2 балла за каждое правильное исправление. Всего 20 б).

Отечественная Война 1812 года важная страница в истории не только нашей страны, но и всей Европы. 12 августа 1812 года, собрав 600 тысячную армию, Наполеон форсировал Вислу и вторгся в пределы России. У русской армии был план противостояния Наполеону. Русские армии были разделены на четыре группы, которыми командовали Багратион, Чичагов и Барклай-де-Толли. Предполагалось, что армии будут планомерно отступать, на укрепленные позиции, соединяться, и сдержат натиск Наполеона. Две русские армии соединились у Красного, где было дано сражение. Однако вскоре французы оказались недалеко от Москвы.

Сложившаяся ситуация требовала решительных действий и 26 августа пост

**ВСЕРОССИЙСКАЯ ОЛИМПИАДА ШКОЛЬНИКОВ (ШКОЛЬНЫЙ ЭТАП)  
2022-2023 УЧЕБНЫЙ ГОД**

главнокомандующего занял Михаил Илларионович Кутузов, который был одним из лучших учеников Ф.Ф.Ушакова. Русские войска дали генеральное сражение французам у деревни Савельево. Победителем из Бородинской Битвы не вышел никто. Через несколько дней, на военном совете в Филях, Александр I настоял на решении об оставлении Москвы. В середине сентября в Москву вошли французы. Опустевшая Москва встретила Наполеона совсем не торжественно. Город был разорен, амбары с провиантом и амуницией сгорели.

*12 июня 1812 года собравшись вместе армия Наполеон пересекла Неман и вторгся в пределы России. Русской армии был план противостояния Наполеону. Русские армии были разбиты на три группы, которыми командовали Барклай, Жарков и Барклай-де-Толли. Предназначив две армии идти плавно отступать на укрепленные позиции, Суворова, и Сперанского патиса, Наполеон две русские армии соединил в Смоленске, где было дано сражение. Однако вскоре французы оказались недалеко от Москвы. Из изменившейся ситуации требовалось решительное действие и 26 августа поэт главнокомандующего Занял Михаил Илларионович Кутузов, который был одним из лучших учеников Ф.Ф.Ушакова. Русские войска дали генеральное сражение французам у деревни Бородино. Победителем из Бородинской Битвы вышел никто. Через несколько дней, на военном совете в Филях, Кутузов настоял на решении об оставлении Москвы.*

5. Восстановите династическую линию царствующего дома Романовых в XVIII веке *Москвы*.

(до 4 баллов):

- |                   |                        |
|-------------------|------------------------|
| 1) Петр I;        | 6) <u>Елизавета I</u>  |
| 2) Екатерина I;   | 7) Петр III;           |
| 3) <u>Петр II</u> | 8) <u>Екатерина II</u> |
| 4) Анна Иоановна; | 9) Павел I;            |
| 5) <u>Иоан VI</u> |                        |

6. На основе какого принципа налогообложения взимался налог в различные периоды истории страны? (до 4 баллов)

- 1) поземельный;
- 2) подушный;
- 3) подворный.
  - а) В первые десятилетия ордынского ига;
  - б) В XVI — первой половине XVII в.;
  - в) В конце 1670- начале XVIII в.;
  - г) В последние годы правления Петра I.


1	2	3
<u>5</u>	<u>6</u>	<u>2</u>

7. Перед вами история Москвы в картинах мастера исторической живописи Аполлинария Михайловича Васнецова. Проведите анализ изображений и определите, какой период истории Москвы запечатлен на иллюстрациях №1, 2, 3. Приведите аргументы, подтверждающие вашу точку зрения. За каждую верную датировку – 2 балла. За верный аргумент – 4 балла

**Максимальное количество баллов за задание – 18 баллов**




ВСЕРОССИЙСКАЯ ОЛИМПИАДА ШКОЛЬНИКОВ (ШКОЛЬНЫЙ ЭТАП)  
2022-2023 УЧЕБНЫЙ ГОД



1.



2.



3.

8. По какому принципу образованы ряды (дайте краткий ответ)? Завершите ряды (до 4 баллов).

А) Единая Россия, КПРФ, ЛДПР, Справедливая Россия

Б) А.В. Козырев, Е.М. Примаков, И.Г. Иванов, политические партии России

А политические партии России

9. В годы горбачевской перестройки основными лозунгами, соответствующими понятию «гласность», были (до 2 баллов):

1) «Больше демократии, больше социализма!»

2) «Долой монополию КПСС на власть!»

3) «За нашу и вашу свободу!»

4) «За советы без коммунистов!»

5) «Назад к Ленину»

10. Прочитайте отрывки из документов по истории России. Определите, с какими событиями они связаны (по 2 балла за правильный ответ). Укажите год событий (по 2 балла за правильный ответ). **Максимально 8 баллов.**

1. « Государь!

Мы, рабочие и жители С.-Петербурга разных сословий, наши жены и дети, беспомощные старики-родители, пришли к тебе, государь, искать правды и защиты.

Мы обнищали, нас угнетают, обременяют непосильным трудом, над нами надругаются, в нас не признают людей, к нам относятся как к рабам... Мы и терпели, но нас толкают дальше в омут нищеты, бесправия и невежества, нас душат деспотизм и произвол, и мы задыхаемся. Нет больше сил, государь. Настал предел терпению...»

2. « ..По гарнизону Петроградского округа всем солдатам гвардии, армии, артиллерии и флота для немедленного и точного исполнения, а рабочим Петрограда для сведения. Совет рабочих и солдатских депутатов постановил:

Во всех ротах, батальонах, полках, парках, батареях эскадронах и отдельных службах разного рода военных управлений и на судах военного флота немедленно выбрать комитеты из выборных представителей от нижних чинов вышеуказанных воинских



ВСЕРОССИЙСКАЯ ОЛИМПИАДА ШКОЛЬНИКОВ (ШКОЛЬНЫЙ ЭТАП)  
2022-2023 УЧЕБНЫЙ ГОД

частей... Во всех своих политических выступлениях воинская часть подчиняется Совету рабочих и солдатских депутатов...»

*Великая Октябрьская революция 1917 года*

**Аналитический раунд (25 баллов)**

Дорогие участники олимпиады! Вам предстоит работать с высказываниями историков и современников о событиях и деятелях отечественной истории. Выберите из них одно, которое станет темой Вашего сочинения-эссе. Ваша задача – сформулировать собственное отношение к данному утверждению и обосновать его аргументами, представляющимися Вам наиболее существенными.

При выборе темы исходите из того, что Вы:

1. Ясно понимаете смысл высказывания (не обязательно полностью или даже частично быть согласным с автором, но необходимо понимать, что именно он утверждает).
2. Можете выразить свое отношение к высказыванию (аргументировано согласиться с автором либо полностью или частично опровергнуть его высказывание).
3. Располагаете конкретными знаниями (факты, статистические данные, примеры) по данной теме.
4. Владаете терминами, необходимыми для грамотного изложения своей точки зрения.

При написании работы постарайтесь исходить из того, что Жюри, оценивая Ваше эссе, будет руководствоваться следующими критериями (от 1 до 5 баллов по каждому критерию):

1. Обоснованность выбора темы (объяснение выбора темы и задач, которые ставит перед собой в своей работе участник).
2. Творческий характер восприятия темы, ее осмысления.
3. Грамотность использования исторических фактов и терминов.
4. Четкость и доказательность основных положений работы.
5. Знание различных точек зрения по избранному вопросу.

1) Княжение Дмитрия Донского принадлежит к самым несчастным и печальным эпохам истории многострадального русского народа. Беспрестанные разорения и опустошения, то от внешних врагов, то от внутренних усобиц, следовали одни за другими в громадных размерах. (Н.И. Костомаров)

2) Царствование Романовых, Михаила, Алексея, Федора способствовало сближению россиян с Европой как в гражданских учреждениях, так и в нравах. (Н.М. Карамзин)

3) Если бы в конце царствования Екатерины II встал из гроба московский дипломат XVI или XVII вв., то он бы почувствовал себя вполне удовлетворенным, так как увидел бы решенными удовлетворительно все вопросы внешней политики, которые так волновали его современников. (С.Ф. Платонов)

4) Правление Александра II было, с одной стороны, возвращением к более гибкой и маневренной политике, которую демонстрировали Екатерина II и Александр I, с другой – осуществлением уже поставленных жизнью и обществом... реформ (В.Г. Чернуха).

5) Если Франция не была стёрта с лица Европы, то этим прежде всего мы обязаны России, поскольку русская армия своим активным вмешательством отвлекла на себя часть сил и тем позволила нам одержать победу на Марне. (маршал Ф. Фош)

6) Только тогда, когда страна будет электрифицирована, когда под промышленность, сельское хозяйство и транспорт будет подведена техническая база современной крупной промышленности, только тогда мы победим окончательно (В.И. Ленин)









ВСЕРОССИЙСКАЯ ОЛИМПИАДА ШКОЛЬНИКОВ (ШКОЛЬНЫЙ ЭТАП)  
2022-2023 УЧЕБНЫЙ ГОД

---

Шифр 6-02

Максимальное количество баллов – 100

Время выполнения: 45 мин.

## ИСТОРИЯ

### 6 КЛАСС

Часть 1. Тестовые задания. (20 баллов)

1. Когда впервые был употреблен термин «Средние века»?

А) XV век

Б) XVI век

В) XVIII век

Г) XX век

2. У какого государства раннесредневековой Европы был самый высокий уровень экономического развития?

А) Италия

Б) Англия

В) Франкское государство

Г) Испания

3. О каком событии говорится в данном отрывке?

«В 1212 году начала свой путь экспедиция под предводительством юного провидца по имени Стефан, который вдохнул во французских и немецких детей веру в то, что с его помощью, как бедные и преданные слуги Господа, они смогут вернуть христианству Иерусалим. Дети отправились на юг Европы, но многие из них не достигли даже берегов Средиземного моря, а погибли в пути».

А) Пятый крестовый поход.

Б) Крестовый поход младенцев.

В) Крестовый поход детей.

Г) Крестовый поход храбрых юношей.

4. Н.М. Карамзин называл его «русским Македонским», историк М.С. Грушевский — «казак на престоле». О ком идет речь?

А) князе Олеге Вещем

Б) князе Святославе Игоревиче

В) князе Владимире Святославовиче

Г) князе Ярославе Мудром

5. Определите дату окончания истории Древнего мира и начала истории Средних веков

А) 410 г

Б) 395 г

В) 476 г

Г) 500 г

6. Когда происходило Великое переселение народов?

А) IV-VII вв

Б) III-IV вв

В) I-II вв

Г) VIII-X вв

7. Укажите имя вождя, которого прозвали «бичом Божьим» за то, что он опустошил Европу

А) Хлодвиг

Б) Атилла

В) Аларих

Г) Карл Мартелл



ВСЕРОССИЙСКАЯ ОЛИМПИАДА ШКОЛЬНИКОВ (ШКОЛЬНЫЙ ЭТАП)  
2022-2023 УЧЕБНЫЙ ГОД

8. Старинные документы хранятся в

- 2  А) архивах  
 Б) музеях  
 В) конторах  
 Г) сейфах

9. Письменные источники по истории средневековья в Европе

- 2  А) Календари  
 Б) Летописи  
 В) Евангелия  
 Г) Хроники

10. Средневековая книга представляла собой:

- 2  А) папирусный сверток  
 Б) ровно сложенные листы расщепленного бамбука  
 В) сложенные и переплетенные листы пергамента одного размера  
 Г) стопку глиняных табличек

**Часть 2. Открытые вопросы** (максимум 28 баллов)

**Вопрос 1** (3 балла)

Дайте общее название перечисленных слов:

Саксы, франки, гунны, вандалы, вестготы, остготы, бургунды, англы, лангобарды.

германское племя

**Вопрос 2** (10 баллов)

Кто это? Что это?

«Молот»- \_\_\_\_\_

Мухаммед- \_\_\_\_\_

Бенефиций- \_\_\_\_\_

Хлодвиг- 1 повелитель франков. 2

Пергамент- то, на чем писали. 2

**Вопрос 3** (6 баллов)

О каком сооружении времён раннего Средневековья в Византии говорили: «Кажется, будто это «странное произведение, которое вместе с тем вызывает трепет, лежит не на камне, а спущено на золотой цепи с высоты небес»?

**Вопрос 4** (3 балла)

Найдите лишнее в ряду: Папа, аббаты, рыцари, епископы, монахи. Обоснуйте свой ответ.

2 Рыцари. Рыцари входят в таблицу франков, а все остальные - в таблицу христиан.

**Вопрос 5.** По какому принципу образованы ряды (2 балла за каждый правильный ответ, максимальный балл – 6)?

6 а) собака, коза, корова - скотоводство, животные.

б) душа, духи, жертва, молитва - вера, духовство.

в) век, год, тысячелетие - время

**Часть 3.** (максимально – 52 балла)

ВСЕРОССИЙСКАЯ ОЛИМПИАДА ШКОЛЬНИКОВ (ШКОЛЬНЫЙ ЭТАП)  
2022-2023 УЧЕБНЫЙ ГОД

**Задание 3.1.** Сгруппируйте отрасли хозяйства по их принадлежности. Ответ запишите в виде последовательности цифр в соответствующей строке. (Каждый правильный ответ – 1 балл, максимальный балл - 12).

А) Присваивающее хозяйство ~~1, 2, 3, 4, 5, 6, 7, 8, 9, 10, 11, 12~~ 1, 4, 7, 10, 4

Б) Производящее хозяйство 2, 3, 5, 6, 8, 9, 11, 12, 6

1. сбор ягод
2. охота
3. скотоводство
4. сбор грибов
5. рыбная ловля
6. земледелие
7. бортничество
8. огородничество
9. ткачество
10. сбор яиц
11. коневодство
12. кузнечное дело

**Задание 3.2.** Завоевания египетских фараонов. Заполните пропуски в тексте, поставив номера слов, имен и названий, приведенных ниже (слова и названия даны в именительном падеже) в таблицу в соответствии с буквенным обозначением пропуска. Обратите внимание, что слов, имен и названий больше, чем пропусков в тексте (2 балла за правильный ответ, максимальный балл - 12).

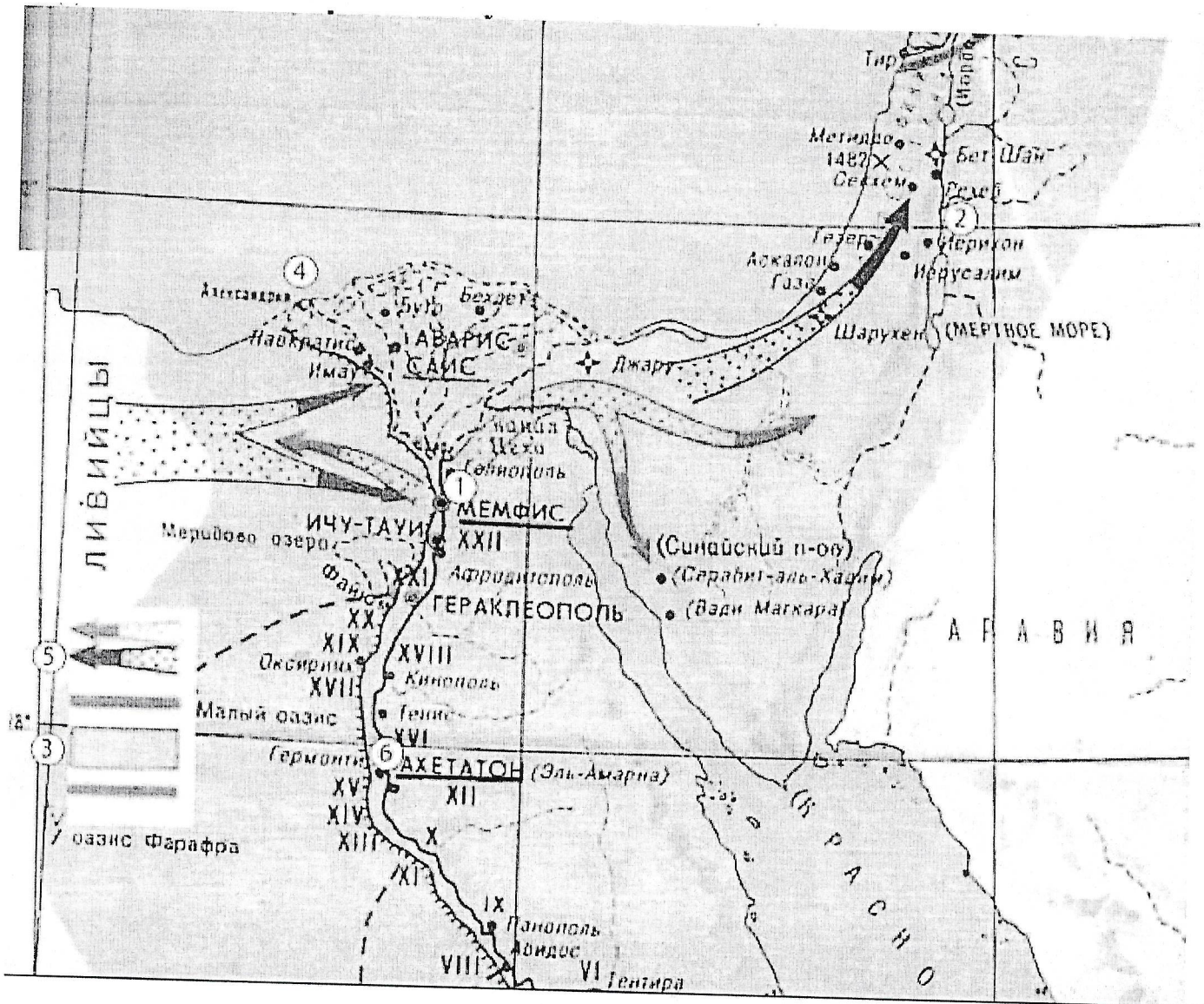
Начало масштабных завоевательных походов связано с именем Тутмос III (А). После успешного наступления в ходе нубийской экспедиции его войска двинулись на север, в Переднюю Азию, разоряя Фивы (Б) и Вавилон (В). Египетские войска впервые достигают Северной Месопотамии в районе реки Тигр (Г) названной ими «Перевернутой водой». Восстановление влияния Египта в Восточном Средиземноморье и поворот к захватнической политике в целом своеобразно отразился и в захоронении фараона: он был первым похоронен в Долине царей (Д) близ современного Луксора. Новое царство не было периодом строительства гигантских каменных пирамид (Е), предпочтение стали отдавать более защищенным и дешёвым скальным усыпальницам.

- 1- Тутмос III
- 2- Тутанхамон
- 3- Палестина
- 4- Фивы
- 5- Сирия
- 6- Вавилон
- 7- Тигр
- 8- Евфрат
- 9- Мемфис
- 10- Долина царей
- 11- пирамида
- 12- зиккурат



А	Б	В	Г	Д	Е
1 2	4	6	7	10 2	11 2

3.3. Рассмотрите схему и выполните задания (20 баллов)



Верны ли следующие утверждения («Да» – «Нет»)? Ответы внесите в таблицу.

1. На схеме обозначена территория обитания нубийских племен. *нет*
2. Цифрой «1» обозначена столица Древнего царства. *да*
3. Цифрой «2» обозначен один из древнейших городов в истории человечества. *нет*
4. Цифрой «5» в легенде схемы обозначено направление походов эпохи Среднего царства. *да*
5. На схеме под цифрой «6» обозначена территория великих пирамид. *нет*
6. Цифрой «4» обозначена современная столица Египта. *да*
7. На схеме обозначена дельта реки Евфрат. *нет да*
8. На схеме показано Средиземное море. *да*
9. На схеме показана территория Верхнего Египта. *да*
10. Цифрой «3» в легенде схемы обозначена территория Египта периода правления Тутмоса III. *нет*

ВСЕРОССИЙСКАЯ ОЛИМПИАДА ШКОЛЬНИКОВ (ШКОЛЬНЫЙ ЭТАП)  
2022-2023 УЧЕБНЫЙ ГОД

146

1	2	3	4	5	6	7	8	9	10
нет	да	нет	да	нет	да	нет	да	да	нет

**Задание 3.4.** Решите задачи. (максимум 8 баллов)

А. Цезаря убили в 44 г. до н.э. сколь лет прошло с тех пор? Приведите свои вычисления (4 балла за правильный ответ).

$$2022 + 44 = 2066 \text{ лет прошло}$$

Б. Захоронение было сделано в год гибели Спартака. Сколько лет было этому захоронению, когда в 2015 г. его обнаружили археологи? Приведите свои вычисления (4 балла за правильный ответ).

$$2015 + 44 = 2059 \text{ лет}$$



Шифр минер 7-07  
максимальное количество баллов – 100  
время выполнения: 90 мин

## ИСТОРИЯ

7 класс

**Задание 1.** Выберите по 1 верному ответу в каждом задании (1 балл за правильный ответ, максимально 10 баллов).

1.1. Славянскими апостолами называют:

- 1) Летописца Нестора и первого русского митрополита Иллариона.
- 2) Первых русских святых Бориса и Глеба.
- 3) Первых правителей - христиан княгиню Ольгу и князя Владимира.
- 4)  Просветителей Кирилла и Мефодия.

1.2. Какой из сибирских городов не был основан в XVII в.?

- 1) Иркутск.
- 2)  Красноярск.
- 3) Омск.
- 4) Томск.

1.3. Укажите, кто из перечисленных путешественников НЕ относится к эпохе Великих географических открытий

- 1) Христофор Колумб                      2) Фернан Магеллан    3) Васко да Гама                      4)  Марко Поло

1.4. Прочтите отрывок из записок Стефана III Великого, господаря Молдавского княжества, и укажите российского правителя, о котором идёт речь. «Сват мой странный человек: сидит дома, веселится, спит спокойно и торжествует над врагами. Я всегда на коне и в поле, а не умею защитить земли своей».

- 1) Иван Калита    2)  Дмитрий Донской    3) Василий II    4) Иван III

1.5. Кто из названных лиц никогда не принадлежал к чину церковных иерархов? Аввакум, Гермоген, Никон, Филарет, Фотий.

1.6. Что является лишним в ряду? (подчеркните): зернь, скань, финифть, фреска.

1.7. Выберите из списка события, произошедшие в правление Петра I:

- А)  учреждение Сената, Синода, коллегий
- Б) Крымские и Азовские походы
- В) Семилетняя война, учреждение Московского университета
- Г) раскол Русской Православной церкви, восстание С. Разина

1.8. Северная война закончилась мирным договором, который получил название:

- А) Прутский
- Б)  Ништадский
- В) Каспийский
- Г) Балтийский

1.9. Для социально-экономического развития России в XVIII веке не характерно:

- А) сохранение и укрепление крепостного права
- Б) активная внешняя торговля

ВСЕРОССИЙСКАЯ ОЛИМПИАДА ШКОЛЬНИКОВ (ШКОЛЬНЫЙ ЭТАП)  
2022-2023 УЧЕБНЫЙ ГОД

15 В) введение подушной подати

Г) ослабление абсолютизма

1.10. В чём выражалось отставание России от передовых стран Запада в начале XVIII в.:

15 А) отсутствие регулярной армии

Б) слабое развитие мануфактурного производства

В) отсутствие флота

Г) всё перечисленное

**Задание 2.** Выберите несколько верных ответов в каждом задании (1 балл за каждый правильный ответ, максимальный балл – 4).

2.1. Какие категории населения упоминаются в «Русской Правде» Ярослава Мудрого?

1) смерды

2) дворяне

3) целовальники

4) кормленщики

5) рядовичи

6) окольные

2.2. Какие из перечисленных событий связаны с нашествием Батыя на русские земли?

1) битва на р. Калке

2) разорение Новгорода

3) сражение на р. Воже

4) сражение на р. Сити

5) битва на р. Альте

6) разорение Рязани

2.3. Выберите из предложенного перечня учреждения, созданные во время правления Ивана III

1) Земский собор

2) Челобитный приказ

3) Дворец

4) Сибирский приказ

5) Приказ тайных дел

6) Казна

2.4. Из предложенного перечня выберите участников Смуты в Московском государстве конца XVI – начала XVII вв.

1) Иосиф Волоцкий

2) Михаил Скопин-Шуйский

3) Андрей Старицкий

4) Богдан Бельский

5) Юрий Долгорукий

6) Дмитрий Боброк-Волынский

**Задание 3.** «Да» или «нет»? Если вы согласны с утверждением, напишите «да», если не согласны – «нет» (по 1 баллу за правильный ответ, максимально 10 баллов.)

1. Ярослав Мудрый был сыном Владимира Святославича. да +

2. Князь Всеволод Большое Гнездо погиб в битве на реке Сити. нет -

3. Дмитрий Донской – сын Ивана Калиты. +

4. Андрей Рублёв – автор иконы «Троица». +

5. Изображение двуглавого орла на государственной печати в Московском государстве впервые появилось при Иване Красном. +

6. Ярослав Осмомысл – князь Московский. -

7. Словаки относятся к ветви восточных славян. -

8. Москва была взята войском Батыя. +

9. Десятинная церковь была построена при князе Владимире. +

10. По одной из версий город Звенигород под Москвой был основан Юрием Долгоруким. -

1	2	3	4	5	6	7	8	9	10
да +	нет -	да	да +	да	нет -	нет -	да +	да +	нет -

**Задание 4.** По какому принципу образованы ряды (дайте краткий ответ)? Завершите ряды. Максимально 4 балла:

А) 1505 г., 1533 г., 1584 г., \_\_\_\_\_.

Б) устав, полуустав, скоропись, \_\_\_\_\_.



ВСЕРОССИЙСКАЯ ОЛИМПИАДА ШКОЛЬНИКОВ (ШКОЛЬНЫЙ ЭТАП)  
2022-2023 УЧЕБНЫЙ ГОД

**Задание 5.** Заполните пустые ячейки таблицы, используя приведенный ниже список пропущенных элементов: для каждого пропуска, обозначенного цифрами, выберите номер нужного элемента. 2 балла за каждый правильный ответ. Максимально – 14.

Событие	Дата	Участник
Крещение Руси	980 г	_____ (А)
_____ (Б)	1420-е годы	Андрей Рублев
Путешествие в Персию и Индию, описание путешествия в книге «Хождение за три моря»	К. XV века	_____ (В)
Создание «Судебника»	_____ (Г)	Иван III
Куликовская битва	_____ (Д)	Дмитрий Иванович Донской
_____ (Е)	1410	Ягайло и Витовт
_____ (Ж)	1240	Александр Невский

Пропущенные элементы

- 1) Создание иконы «Троица»
- 2) 1497
- 3) 1380
- 4) Невская битва
- 5) Грюнвальдская битва
- 6) Князь Владимир (Красное солнышко, Святой)
- 7) Афанасий Никитин

А	Б	В	Г	Д	Е	Ж
6 2	1 2	4 2	2 2	3 2	5 2	4 2

**Задание 6.** Установите соответствие между историческими документами и установленными в них нормами. Обратите внимание, в правом столбце таблицы содержится лишний элемент (каждое правильное соответствие – 2 балла, максимум – 10 баллов).

Название документа	Установленная норма
А) Судебник 1497 г. 2	1) увеличение пожилого
Б) Русская правда 4	2) на тысяцкого возлагалось руководство торговым судом и разбор дел полицейского характера
В) Судебник 1550 г. 2	3) двоеперстное сложение при совершении крестного знамения
Г) Новгородская судная грамота 3	4) введение правила Юрьева дня
Д) Стоглав 6	5) введение урочных лет
	6) уплата штрафа в размере 5 гривен за убийство холопа или смерда


**Задание 7.** Ученик 7-го класса обнаружил изображения шести выдающихся полководцев мира. Но оказалось, что полководцы не названы. Помогите ученику разобраться! Для этого назовите каждого из военачальников, соотнесите его с номером портрета. Укажите, в каком веке (до нашей эры или нашей эры) жил каждый исторический деятель (за правильный ответ – 1 балл, максимум – 10 баллов).




ВСЕРОССИЙСКАЯ ОЛИМПИАДА ШКОЛЬНИКОВ (ШКОЛЬНЫЙ ЭТАП)  
2022-2023 УЧЕБНЫЙ ГОД



1.



2.



3.



4.



5.

Номер изображения	Полководец (1 балл за правильный ответ)	Век (века), когда жил (1 балл за правильный ответ)
1		
2		
3		
4		
5		



ВСЕРОССИЙСКАЯ ОЛИМПИАДА ШКОЛЬНИКОВ (ШКОЛЬНЫЙ ЭТАП)  
2022-2023 УЧЕБНЫЙ ГОД

**Задание 8.** Прочитайте отрывок из документа и ответьте на вопросы (вопросы 1-2 по 1 баллу, вопросы 3-5 по 2 балла, максимальный балл — 8).

«О христианском отказе». А христиано отказыватися из волости, и с села в село, один срок в году, за неделю до Юрьева дни осеннего и неделю после Юрьева дни осеннего. Дворы пожилые платят в полах за двор рубль. А которой христианин поживёт за кем год, да пойдёт прочь, и он платит четверть двора, а два года поживёт, да пойдёт прочь, и он полдвора платит; а три годы поживёт, а пойдёт прочь, и он платит три четверти двора; а четыре года поживёт, и он весь двор платит».

Вопросы:

1. Как называется этот документ? \_\_\_\_\_
2. Когда он был принят? \_\_\_\_\_
3. Кому предназначалась описанная в нём выплата? Как она называлась? \_\_\_\_\_
4. Укажите название и дату принятия документа, в котором данная форма была подтверждена \_\_\_\_\_
5. Начало какому процессу было положено этим документом? Когда этот процесс окончательно завершился? \_\_\_\_\_

**Задание 9.** Прочитайте фрагмент текста, повествующего о восточных славянах. Вставьте пропущенные слова (имена, понятия, даты). (2 балла за каждый верный ответ. Максимум — 30 баллов)

Основным занятием восточных славян было земледелие (1). Это подтверждается археологическими раскопками, при которых были обнаружены семена злаков (\_\_\_\_\_) (2) и огородных культур (\_\_\_\_\_) (3). У славянских племен существовали две основные системы земледелия. На севере господствующей была \_\_\_\_\_ (4) система. Основными орудиями труда в лесной полосе были \_\_\_\_\_ (5), мотыга, заступ и борона-суковатка. Убирали урожай при помощи \_\_\_\_\_ (6). В южных районах ведущей системой земледелия был \_\_\_\_\_ (7). Участки засевали в течение нескольких лет, а после истощения почвы "перекладывались" на новые участки. В качестве основных орудий использовали \_\_\_\_\_ (8), а впоследствии деревянный плуг с железным лемехом. Важное место в хозяйстве восточных славян играли охота, рыболовство, Бортничество (9) - сбор меда диких пчел. Ремесленники обычно жили в городах. Центральная часть города, окруженная валом и крепостной стеной, называлась \_\_\_\_\_ (10). К нему примыкали поселения ремесленников, которые назывались \_\_\_\_\_ (11). Эта часть города называлась \_\_\_\_\_ (12). Древнейшие города возникали чаще всего на важнейших торговых путях. Одним из таких торговых путей был путь \_\_\_\_\_ (13). Через Неву или Западную Двину и Волхов с его притоками и далее через систему волоков суда достигали бассейна Днепра. По Днепру они доходили до \_\_\_\_\_ (14) моря и далее до \_\_\_\_\_ (15).