

Всероссийская олимпиада школьников по географии
Школьный этап олимпиады
Задания для 10 - 11 класса

Общее время выполнения работы – 2 урока (90 минут)

При работе запрещено пользоваться справочными материалами, мобильными телефонами, карманными компьютерами.

ЧАСТЬ А (1 балл за правильный ответ)

1. Какое из перечисленных государств по форме правления является монархией?

- 1) Испания
- 2) Португалия
- 3) Франция
- 4) Финляндия

10

2. Какая из перечисленных стран находится в Азии?

- 1) Нигерия
- 2) Пакистан
- 3) Боливия
- 4) Судан

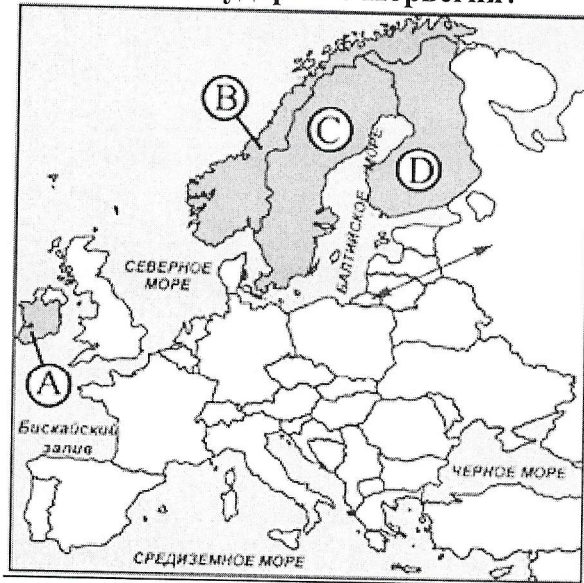
10

3. Для какой из перечисленных стран характерен наибольший приток иммигрантов?

- 1) Иран
- 2) Монголия
- 3) Канада
- 4) Эфиопия

10

4. Какой буквой на фрагменте политической карты зарубежной Европы обозначено государство Норвегия?



- 1) А
- 2) В
- 3) С
- 4) D

10

5. Исключите город не находящийся на Волго-Балтийском водном пути:

- 0,5
- 1) Самара;
 - 2) Ярославль;
 - 3) Тверь;
 - 4) Санкт-Петербург.

6. Укажите верные пары «государство и часть Мирового океана, к которой оно имеет выход».

- 1,5
- 1) Испания — Средиземное море
 - 2) Турция — Красное море
 - 3) Индия — Бенгальский залив
 - 4) Венесуэла — Карибское море
 - 5) Эфиопия — Аравийское море

7. Укажите верные пары «страна — гигант по численности; населения и ее столица».

- 1,5
- 1) Китай — Дели
 - 2) Индонезия — Джакарта
 - 3) Бразилия — Рио-де-Жанейро
 - 4) Пакистан — Исламабад

8. Определите страну по описанию.

Это развивающееся государство расположено на нескольких тысячах больших и малых островов и полуострове, по форме правления является монархией, административное устройство - федерация.

- 0,5
- 1) Индонезия
 - 2) Малайзия
 - 3) Филиппины
 - 4) Япония

9. Укажите тройку стран - лидеров по выплавке стали.

- 0,5
- 1) США
 - 2) Россия
 - 3) Люксембург
 - 4) Бельгия
 - 5) Италия
 - 6) Япония
 - 7) Китай

10. Определите страну по описанию.

Эти государство - гигант по площади, но не по численности населения, оно входит в Содружество с Великобританией, по социально-экономическим показателям является страной переселенческого

Капитализма.

- 1,5
- 1) США
 - 2) Бразилия
 - 3) Канада
 - 4) Нигерия

11. В каком из высказываний содержится информация о процессе урбанизации?

- 1,5
- 1) Численность и плотность населения увеличиваются в тех странах и регионах, где наиболее высок естественный прирост населения;
 - 2) Половина населения мира живет в сельской местности, а общее количество сельских населенных пунктов составляет 15-20 млн;
 - 3) В начале XX в. в мире насчитывалось 360 больших городов, к началу XXI в. число больших городов достигло 4 тыс;
 - 4) В наименее развитых странах проживает более 600 млн. человек со среднедушевым ВВП 100 - 300 долл. в год.

12. Какая из перечисленных стран находится в Азии?

- 1,5
- 1) Нигерия
 - 2) Пакистан
 - 3) Боливия
 - 4) Судан

13. Установите соответствие между страной и ее столицей.

- 1,5
- | | |
|------------|--------------|
| 1) Вьетнам | а) Стокгольм |
| 2) Швеция | б) Коломбо |
| 3) ЮАР | в) Ханой |
| | г) Претория |

14. Какая из перечисленных городских агломераций является наиболее крупной по численности населения?

- 0,5
- 1) Варшава 2) Нью-Йорк
3) Лондон 4) Рим

15. К концу XX века в мире уменьшилось влияние на размещение отраслей промышленности фактора:

- 0,5
- 1) сырьевого
2) транспортного
3) экологического
4) энергетического

Часть В (2 балла за правильный ответ)

1. Установите соответствие «порт – море»:

- 2,5
- | | |
|----------------|-----------------|
| 1- Находка | А- Балтийское + |
| 2- Мурманск | Б- Японское + |
| 3- Калининград | В- Баренцево + |
| 4- Тикси | Г- Лаптевых. + |

2. Особенности географического положения Евразии. Найдите соответствие:

- 2,5
- | | |
|--|-------------------|
| + 1) Океан, омывающий западное побережье; | а) Ла-Манш; |
| + 2) Крайний южный мыс материка; | б) Атлантический; |
| + 3) Залив на юге материка; | в) Балканский; |
| + 4) Остров у восточного побережья; | г) Пиай; |
| + 5) Залив на западе материка; | д) Бенгальский; |
| + 6) Пролив, отделяющий остров Великобритания; | е) Тайвань; |
| + 7) Крупный полуостров материка. | ж) Бискайский. |

3. Установите соответствие между озером и территорией, где оно расположено:

- 2,5
- | | |
|-----------------|----------------------------------|
| + 1) Ладожское; | а) в Новгородской области; |
| + 2) Кроноцкое; | б) горные районы юга Сибири; |
| + 3) Байкал; | в) в Ленинградской области; |
| + 4) Ильмень; | г) в Тверской области; |
| + 5) Баскунчак; | д) на полуострове Камчатка; |
| + 6) Великое; | е) на Прикаспийской низменности. |

Часть С

Задание 1 (3 балла за правильный ответ)

0,5

Эта страна-архипелаг по форме правления является конституционной монархией. Однородное по национальному составу население этой страны отличается большой численностью: она входит в первую десятку населения стран мира. Страна обладает очень крупным и самым современным морским торговым флотом, так как около 9/10 используемого сырья и топлива импортируется.

Индонезия

Задание 2 (4 балла за правильный ответ)

Внутренние миграции населения оказывают заметное влияние на численность населения субъектов Российской Федерации. При планировании мер по обеспечению населения жильем, рабочими местами, объектами социальной сферы необходимо учитывать влияние миграционных процессов на численность населения региона.

В таблице приведены данные, взятые с официального сайта Федеральной службы государственной статистики.

115

Численность и естественный прирост населения Ленинградской области

	2006	2007	2008
Численность постоянного населения на 1 января, человек.	1643888	1637737	1633350
Естественный прирост населения, человек, значение показателя за год.	-18665	-16079	нет данных

Проанализировав эти данные, определите величину миграционного прироста (убыли) населения Ленинградской области в 2007 г. Запишите решение задачи.

Ответ: 11692

Задание 3 (10 баллов за правильный ответ - 2 балла – за реку, по 0,5 балла за притоки, города, баллы за названные электростанции и отрасли промышленности).

«Эта река катит свои воды через всю Сибирь; словно измерив всю необъятную ширь, делит глубоким руслом огромную страну на две равные части. Сказочно хороша река своим величавым течением, природой и живописными городами и селами, горделиво возвышающимися на крутых берегах. С левого берега у реки притоков мало и нет среди них значительных. Все крупные притоки подходят к реке справа. Это самая многоводная река России. Она выносит в океан воды больше, чем все реки Европейской части страны». (По А. Муранову)

О какой реке идет речь? Назовите известные вам притоки этой реки. Какие крупные города находятся на её берегах и берегах притоков? Какие сооружения и отрасли промышленности возникли на этой реке?

8, 0,5

река: Енисей; притоки: ~~Тунгуска~~ Мира, Тунгуска, Таскаланская Тунгуска, Ангара, Джунька

Задание 4 (14 баллов (2 балла за каждый правильный ответ))


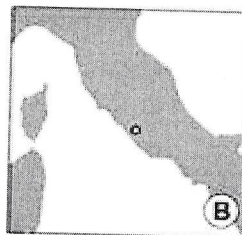
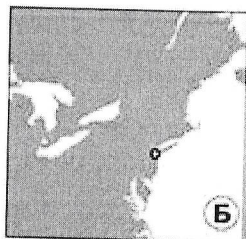

Исправьте географические ошибки

Остров Юкатан Пенула; Залив Ютландия Тенуа; Карибское озеро Ведра
Море; Река Гекла Вулкан; Гора Меконг река; Город Лабрадор Пенула

148

Задание 5 (12 баллов)

Впишите во вторую колонку таблицы номера рисунков так, чтобы образовались осмысленные пары «город — рисунок». Поясните, почему вы так сделали?



Объект	Рисунок	Пояснение
A	1	По столице ^{действительная} названия культурный, принадлежат в Стокгольме
B	3	Статуя свободы находится в Нью-Йорке
B	2	Волчица - символ Рима

125